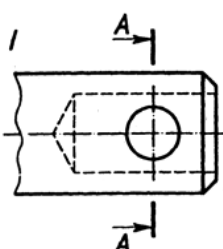



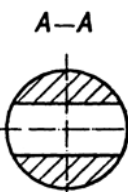
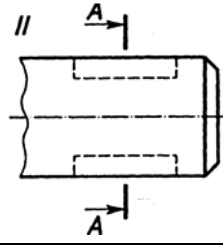
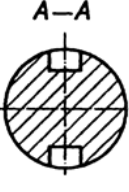
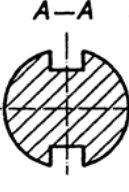
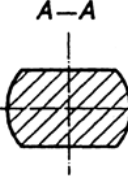
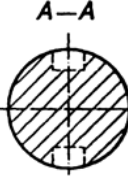
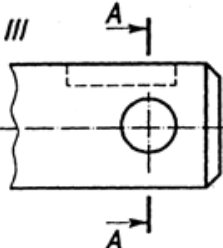
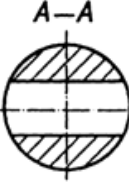
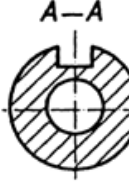


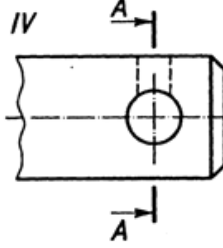

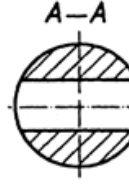
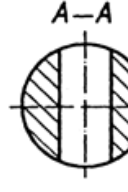

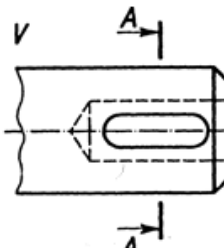
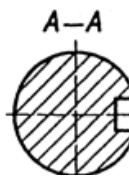




№	Запитання	№ відпо-	Варіанти відповідей
1	<p>Який з перерізів, виконаний по січній площині А-А, відповідає формі предмета I та правилам виконання перерізів?</p> 	1	
		2	
		3	
		4	
2	<p>Який з перерізів, виконаний по січній площині А-А, відповідає формі предмета II та правилам виконання перерізів?</p> 	1	
		2	
		3	
		4	
3	<p>Який з перерізів, виконаний по січній площині А-А, відповідає формі предмета III та правилам виконання перерізів?</p> 	1	
		2	
		3	
		4	
4	<p>Який з перерізів, виконаний по січній площині А-А, відповідає формі предмета IV та правилам виконання перерізів?</p> 	1	
		2	
		3	
		4	
5	<p>Який з перерізів, виконаний по січній площині А-А, відповідає формі предмета V та правилам виконання перерізів?</p> 	1	
		2	
		3	
		4	